

Олимпиада Смарт Старт – 2017. Физика. Отборочный этап.

Решения и критерии.

8 класс

1. Тело, состоящее из куска льда и вмёрзшего в него алюминиевого бруска, плавает в воде так, что под водой находится $\alpha = 0,95$ объема тела. Какой процент льда должен растаять, чтобы тело полностью погрузилось в воду? Плотность воды $\rho_v = 10^3 \text{ кг/м}^3$, льда $\rho_l = 900 \text{ кг/м}^3$, алюминия $\rho_a = 2,7 \cdot 10^3 \text{ кг/м}^3$.

Решение

Условие плавания

$$F_{\text{арх}} = m_{\text{общ}}g. \quad (1)$$

С учетом условия задачи

$$\rho_v g \alpha V_{\text{общ}} = (m_{\text{ал}} + m_{\text{л}})g, \quad (2)$$

$$\rho_v \alpha (V_{\text{л}} + V_{\text{ал}}) = \rho_{\text{л}} V_{\text{л}} + \rho_{\text{ал}} V_{\text{ал}}. \quad (3)$$

После того, как растаяла часть льда β и тело стало плавать полностью погруженным в воду, получаем

$$\rho_v (V_{\text{л}}(1 - \beta) + V_{\text{ал}}) = \rho_{\text{л}} V_{\text{л}}(1 - \beta) + \rho_{\text{ал}} V_{\text{ал}}. \quad (4)$$

Разделим уравнения (3) и (4) на $V_{\text{л}}$, введем обозначение $\gamma = \frac{V_{\text{ал}}}{V_{\text{л}}}$, в результате получим систему уравнений с неизвестными γ и β :

$$\begin{cases} \rho_v \alpha (1 + \gamma) = \rho_{\text{л}} + \rho_{\text{ал}} \gamma, \\ \rho_v (1 - \beta + \gamma) = \rho_{\text{л}}(1 - \beta) + \rho_{\text{ал}} \gamma. \end{cases} \quad (5)$$

Исключая γ , находим

$$1 - \beta = \frac{\rho_{\text{ал}} - \rho_v}{\rho_v - \rho_{\text{л}}} \frac{\alpha \rho_v - \rho_{\text{л}}}{\rho_{\text{ал}} - \alpha \rho_v}. \quad (6)$$

Отсюда находим

$$\beta \approx 0.51$$

Ответ: 51%

Критерии оценки

1. Правильно записаны условия плавания с учетом данных задачи (3) и (4): 5 баллов

2. Решена полученная система уравнений (5): 3 балла

3. Получен правильный численный ответ: 2 балла

Максимальная оценка 10 баллов

2. Некоторое количество воды нагревается электронагревателем мощностью $P = 500 \text{ Вт}$. При включении нагревателя на время $\tau_1 = 2 \text{ мин}$ температура воды повысилась на $\Delta T = 1 \text{ К}$, а при его отключении - понизилась за время $\tau_2 = 1 \text{ мин}$ на ту же величину ΔT . Какова масса нагреваемой воды, если потери тепла за счет рассеяния в окружающую среду пропорциональны времени? Удельная теплоемкость воды $c = 4200 \frac{\text{Дж}}{\text{кг} \cdot \text{°C}}$.

Решение

При нагревании воды закон сохранения энергии имеет вид:

$$P\tau_1 = cm\Delta T + G\tau_1, \quad (7)$$

а при остывании –

$$cm\Delta T = G\tau_2. \quad (8)$$

Здесь G – мощность отдачи тепла в окружающую среду. Из уравнений (7) и (8) находим

$$m = \frac{P\tau_1\tau_2}{c\Delta T(\tau_1 + \tau_2)} = 4.8 \text{ кг}. \quad (9)$$

Ответ 4.8 кг.

Критерии оценки

1. Правильно записан закон сохранения для нагревания (7): 3 балла

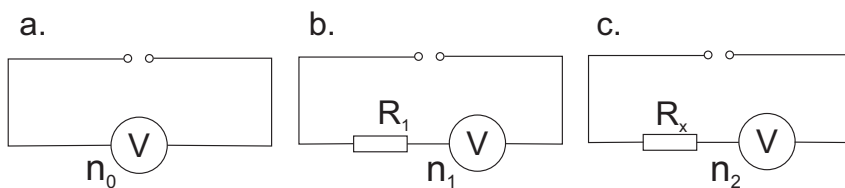
2. Правильно записан закон сохранения для остывания (8): 3 балла

2. Решена полученная система уравнений (9): 3 балла

3. Получен правильный численный ответ: 1 балл

Максимальная оценка 10 баллов

3. Имеются резисторы, сопротивление одного из них $R_1 = 0.5$ кОм, а другого R_x нужно измерить. Для этого, используя источник постоянного электрического напряжения, собрали три цепи (см. рис. а, б, в). В первом случае стрелка вольтметра отклонилась на $n_0 = 16$ делений его шкалы, во втором – на $n_1 = 12$ делений и в третьем – на $n_2 = 10$ делений. Определите по этим данным сопротивление R_x второго резистора.



Решение

Обозначим цену деления вольтметра α , показания вольтметра в первом случае $U_0 = \alpha n_0$ равны напряжению источника. Во втором случае: показания вольтметра $U_1 = \alpha n_1$, напряжение на резисторе R_1 равно $U_{R_1} = U_0 - U_1 = \alpha(n_0 - n_1)$. При последовательном соединении сила тока одинакова:

$$\frac{\alpha n_1}{R_v} = \frac{\alpha(n_0 - n_1)}{R_1} \Rightarrow \frac{n_1}{R_v} = \frac{(n_0 - n_1)}{R_1}, \quad (10)$$

здесь R_v – сопротивление вольтметра.

Для третьего случая аналогично получаем

$$\frac{\alpha n_2}{R_v} = \frac{\alpha(n_0 - n_2)}{R_x} \Rightarrow \frac{n_2}{R_v} = \frac{(n_0 - n_2)}{R_x}. \quad (11)$$

Решая совместно уравнения (10) и (11), находим

$$R_x = \frac{n_1(n_0 - n_2)}{n_2(n_0 - n_1)} R_1 = 0.9 \text{ кОм}. \quad (12)$$

Ответ: 0.9 кОм.

Критерии оценки

1. Записаны показания вольтметра через цену деления и выражено напряжение на клеммах источника: 2 балла

2. Правильно записан закон Ома и равенство токов для второго случая (10): *2 балла*
 3. Правильно записан закон Ома и равенство токов для третьего случая (11): *2 балла*
 4. Решена полученная система уравнений и записан ответ в общем виде (12): *3 балла*
 5. Получен правильный численный ответ: *1 балл*
- Максимальная оценка *10 баллов*

4. К коромыслу равноплечных весов подвешены два сплошных однородных шарика, сделанных из разных материалов, но имеющих одинаковые массы. Если теперь один из шариков поместить в жидкость плотностью 1000 кг/м^3 , а другой – в жидкость плотностью 800 кг/м^3 , то равновесие сохранится. Считая, что плотности шариков больше плотностей жидкостей, найдите отношение плотностей шариков.

Решение

Вес шарика в воздухе $P_{\text{в}} = mg$, в жидкости $P_{\text{в}} = mg - F_a$, где F_a – сила Архимеда. Так как весы равноплечие, массы шариков равны, то можно сделать вывод, что силы Архимеда, действовавшие на шарики, так же равны:

$$F_{a1} = F_{a2}. \quad (13)$$

Отсюда получаем

$$\rho_{\text{ж}1} g \frac{m}{\rho_1} = \rho_{\text{ж}2} g \frac{m}{\rho_2}, \quad (14)$$

где $\rho_{\text{ж}1}$ и $\rho_{\text{ж}2}$ – плотности первой и второй жидкостей, ρ_1 и ρ_2 – плотности первого и второго шариков. Из (14) находим

$$\frac{\rho_1}{\rho_2} = \frac{\rho_{\text{ж}1}}{\rho_{\text{ж}2}} = 1.25 \quad (15)$$

Ответ: 1.25

Критерии оценки

1. Записано выражение для веса тела в жидкости: *2 балла*
 2. Сделан вывод о равенстве сил Архимеда (13) и (14): *4 балла*
 3. Получено выражение для отношения плотностей шариков (15): *3 балла*
 4. Получен правильный численный ответ: *1 балл*
- Максимальная оценка *10 баллов*

5. В цилиндрический сосуд с водой опустили железную коробочку, из-за чего уровень воды в сосуде поднялся на 2 см. На сколько опустится уровень воды, если коробочку утопить? Плотности воды $\rho_{\text{в}} = 1000 \text{ кг/м}^3$ и железа $\rho_{\text{ж}} = 7800 \text{ кг/м}^3$.

Решение

Найдем изменения уровня воды в сосуде в двух случаях: при опускании в него коробочки так, чтобы она плавала (h_1) и опускании в него коробочки так, чтобы она тонула (h_2). Очевидно, что изменение уровня воды в сосуде, в котором уже плавает коробочка, из-за того, что коробочку утопили будет равно

$$\Delta h = h_1 - h_2. \quad (16)$$

Из условия плавания коробочки

$$m_{\text{к}} g = \rho_{\text{в}} g h_1 S \quad \Rightarrow \quad h_1 = \frac{m_{\text{к}}}{\rho_{\text{в}} S}, \quad (17)$$

где S – площадь дна сосуда. Во втором случае

$$h_2 = \frac{m_k}{\rho_{\text{ж}} S}. \quad (18)$$

Из (17) и (18) находим

$$h_2 = h_1 \frac{\rho_{\text{в}}}{\rho_{\text{ж}}}, \quad (19)$$

тогда

$$\Delta h = h_1 - h_2 = h_1 \left(1 - \frac{\rho_{\text{в}}}{\rho_{\text{ж}}} \right) = 1.74 \text{ см}. \quad (20)$$

Ответ: 1.74 см.

Критерии оценки

1. Сделан вывод, что искомую величину можно найти как разность изменения уровня воды в двух случаях (16): *3 балла*
 2. Записано условие плавания коробочки и найдено изменение уровня воды (17): *2 балла*
 3. Найдено изменение уровня воды вследствие опускания коробочки в сосуд так, чтобы она утонула (18): *2 балла*
 4. Получен ответ в общем виде (20): *2 балла*
 5. Получен правильный численный ответ: *1 балл*
- Максимальная оценка *10 баллов*

9 класс

1. Тело, состоящее из куска льда и вмержшего в него алюминиевого бруска, плавает в воде так, что под водой находится $\alpha = 0,95$ объема тела. Какой процент льда должен растаять, чтобы тело полностью погрузилось в воду? Плотность воды $\rho_{\text{в}} = 10^3 \text{ кг/м}^3$, льда $\rho_{\text{л}} = 900 \text{ кг/м}^3$, алюминия $\rho_{\text{а}} = 2,7 \cdot 10^3 \text{ кг/м}^3$.

Решение

Условие плавания

$$F_{\text{арх}} = m_{\text{общ}}g. \quad (21)$$

С учетом условия задачи

$$\rho_{\text{в}}g\alpha V_{\text{общ}} = (m_{\text{ал}} + m_{\text{л}})g, \quad (22)$$

$$\rho_{\text{в}}\alpha (V_{\text{л}} + V_{\text{ал}}) = \rho_{\text{л}}V_{\text{л}} + \rho_{\text{ал}}V_{\text{ал}}. \quad (23)$$

После того, как растаяла часть льда β и тело стало плавать полностью погруженным в воду, получаем

$$\rho_{\text{в}} (V_{\text{л}}(1 - \beta) + V_{\text{ал}}) = \rho_{\text{л}}V_{\text{л}}(1 - \beta) + \rho_{\text{ал}}V_{\text{ал}}. \quad (24)$$

Разделим уравнения (23) и (24) на $V_{\text{л}}$, введем обозначение $\gamma = \frac{V_{\text{ал}}}{V_{\text{л}}}$, в результате получим систему уравнений с неизвестными γ и β :

$$\begin{cases} \rho_{\text{в}}\alpha(1 + \gamma) = \rho_{\text{л}} + \rho_{\text{ал}}\gamma, \\ \rho_{\text{в}}(1 - \beta + \gamma) = \rho_{\text{л}}(1 - \beta) + \rho_{\text{ал}}\gamma. \end{cases} \quad (25)$$

Исключая γ , находим

$$1 - \beta = \frac{\rho_{\text{ал}} - \rho_{\text{в}}}{\rho_{\text{в}} - \rho_{\text{л}}} \frac{\alpha\rho_{\text{в}} - \rho_{\text{л}}}{\rho_{\text{ал}} - \alpha\rho_{\text{в}}}. \quad (26)$$

Отсюда находим

$$\beta \approx 0.51$$

Ответ: 51%

Критерии оценки

1. Правильно записаны условия плавания с учетом данных задачи (23) и (24): *5 баллов*
2. Решена полученная система уравнений (25): *3 балла*
3. Получен правильный численный ответ: *2 балла*

Максимальная оценка *10 баллов*

2. Некоторое количество воды нагревается электронагревателем мощностью $P = 500 \text{ Вт}$. При включении нагревателя на время $\tau_1 = 2 \text{ мин}$ температура воды повысилась на $\Delta T = 1 \text{ К}$, а при его отключении - понизилась за время $\tau_2 = 1 \text{ мин}$ на ту же величину ΔT . Какова масса нагреваемой воды, если потери тепла за счет рассеяния в окружающую среду пропорциональны времени? Удельная теплоемкость воды $c = 4200 \frac{\text{Дж}}{\text{кг}^\circ\text{C}}$.

Решение

При нагревании воды закон сохранения энергии имеет вид:

$$P\tau_1 = cm\Delta T + G\tau_1, \quad (27)$$

а при остывании –

$$cm\Delta T = G\tau_2. \quad (28)$$

Здесь G – мощность отдачи тепла в окружающую среду. Из уравнений (27) и (28) находим

$$m = \frac{P\tau_1\tau_2}{c\Delta T(\tau_1 + \tau_2)} = 4.8 \text{ кг}. \quad (29)$$

Ответ 4.8 кг.

Критерии оценки

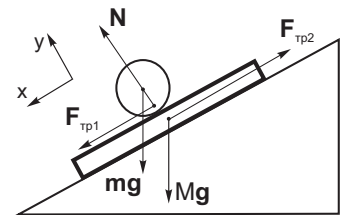
1. Правильно записан закон сохранения для нагревания (27): 3 балла
2. Правильно записан закон сохранения для остывания (28): 3 балла
2. Решена полученная система уравнений (29): 3 балла
3. Получен правильный численный ответ: 1 балл

Максимальная оценка 10 баллов

3. Доска массой M может двигаться без трения по наклонной плоскости, образующей угол α с горизонтом. С каким ускорением должна бежать по доске собака массой m , чтобы доска не соскальзывала с наклонной плоскости? Каким должен быть коэффициент трения между лапами собаки и доской, чтобы задача имела решение?

Решение

Очевидно, что собака должна бежать по доске вниз. Между лапами собаки и доской будут действовать силы трения, приложенные к собаке и доске как показано на рис. Они связаны между собой третьим законом Ньютона, следовательно: $F_{\text{тр}1} = F_{\text{тр}2} \equiv F_{\text{тр}}$. Тогда второй закон Ньютона для собаки в проекции на ось x



$$ma = F_{\text{тр}} + mg \sin \alpha, \quad (30)$$

для доски в проекции на ту же ось

$$0 = -F_{\text{тр}} + Mg \sin \alpha. \quad (31)$$

Из уравнений (30) и (31) находим

$$a = g \sin \alpha \frac{M + m}{m}. \quad (32)$$

Максимально возможное значение силы трения $F_{\text{тр}} = \mu N$. Запишем для собаки второй закон Ньютона в проекциях на ось y :

$$0 = N - mg \cos \alpha \quad (33)$$

и с учетом (31) получаем

$$\mu \geq \frac{M}{m} \operatorname{tg} \alpha. \quad (34)$$

Ответ: $a = g \sin \alpha \frac{M + m}{m}$, $\mu \geq \frac{M}{m} \operatorname{tg} \alpha$.

Критерии оценки

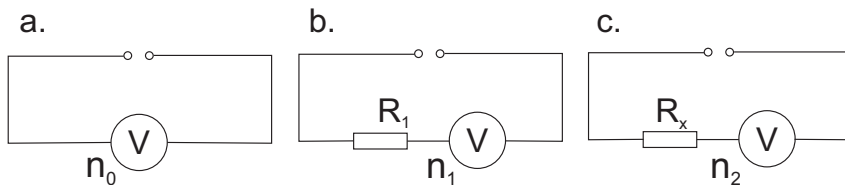
1. Правильно направлены силы трения, действующие на собаку и доску: 2 балла
2. Правильно записаны уравнения, выражающие второй закон Ньютона для собаки и доски в проекции на ось x (30) и (31): 3 балла

2. Решена полученная система уравнений и получен ответ на первый вопрос задачи (32): 3 балла

3. Получен правильный ответ на второй вопрос: 2 балла

Максимальная оценка 10 баллов

4. Имеются резисторы, сопротивление одного из них $R_1 = 0.5$ кОм, а другого R_x нужно измерить. Для этого, используя источник постоянного электрического напряжения, собрали три цепи (см. рис. а, б, в). В первом случае стрелка вольтметра отклонилась на $n_0 = 16$ делений его шкалы, во втором – на $n_1 = 12$ делений и в третьем – на $n_2 = 10$ делений. Определите по этим данным сопротивление R_x второго резистора.



Решение

Обозначим цену деления вольтметра α , показания вольтметра в первом случае $U_0 = \alpha n_0$ равны напряжению источника. Во втором случае: показания вольтметра $U_1 = \alpha n_1$, напряжение на резисторе R_1 равно $U_{R_1} = U_0 - U_1 = \alpha(n_0 - n_1)$. При последовательном соединении сила тока одинакова:

$$\frac{\alpha n_1}{R_v} = \frac{\alpha(n_0 - n_1)}{R_1} \Rightarrow \frac{n_1}{R_v} = \frac{(n_0 - n_1)}{R_1}, \quad (35)$$

здесь R_v – сопротивление вольтметра.

Для третьего случая аналогично получаем

$$\frac{\alpha n_2}{R_v} = \frac{\alpha(n_0 - n_2)}{R_x} \Rightarrow \frac{n_2}{R_v} = \frac{(n_0 - n_2)}{R_x}. \quad (36)$$

Решая совместно уравнения (35) и (36), находим

$$R_x = \frac{n_1(n_0 - n_2)}{n_2(n_0 - n_1)} R_1 = 0.9 \text{ кОм}. \quad (37)$$

Ответ: 0.9 кОм.

Критерии оценки

1. Записаны показания вольтметра через цену деления и выражено напряжение на клеммах источника: 2 балла

2. Правильно записан закон Ома и равенство токов для второго случая (35): 2 балла

3. Правильно записан закон Ома и равенство токов для третьего случая (36): 2 балла

4. Решена полученная система уравнений и записан ответ в общем виде (37): 3 балла

5. Получен правильный численный ответ: 1 балл

Максимальная оценка 10 баллов

5. Перед переездом на абсолютно пустой дороге стоит автомобиль. На светофоре указано, что переезд откроется через τ секунд. Водителю необходимо попасть в точку за переездом, расстояние до которой от автомобиля равно S , за минимальное время. Считать, что автомобиль может двигаться только с постоянным по модулю ускорением

a как вперед так и назад, при разгоне и торможении. Определить минимальное время, за которое автомобиль может добраться до нужной точки.

Решение

Водитель может поступить следующим образом.

1-й вариант. Дождаться открытия переезда и двигаясь с ускорением a достигнуть требуемой точки. Для этого необходимо время

$$t_I = \tau + \sqrt{\frac{2s}{a}}. \quad (38)$$

2-й вариант. Водитель может использовать другую стратегию: к моменту открытия переезда необходимо приобрести максимально возможную скорость. Для этого необходимо за то время, пока закрыт переезд (τ): начать двигаться назад с ускорением a , далее тормозить с тем же ускорением, на мгновение остановиться и начать движение с ускорением a в сторону переезда так, чтобы оказаться у переезда к моменту его открытия. Очевидно, что при движении назад время разгона (t_0) будет равно времени торможения (t_0), тогда расстояние, на которое автомобиль отъедет от переезда

$$s_0 = \frac{at_0^2}{2} + \frac{at_0^2}{2} = at_0^2.$$

Тогда автомобиль должен будет за время $\tau - 2t_0$ вернуться к переезду

$$s_0 = \frac{a(\tau - 2t_0)^2}{2}.$$

Приравнивая выражения для s_0 , находим

$$t_0 = \frac{\tau}{2 + \sqrt{2}}. \quad (39)$$

Кроме того, начиная движение из точки остановки, автомобиль двигаясь без начальной скорости должен будет пройти расстояние $s_0 + s$, затратив на это время t_x :

$$s_0 + s = \frac{at_x^2}{2} \Rightarrow t_x = \sqrt{\frac{2(s_0 + s)}{a}} = \sqrt{\frac{2s}{a} + 2t_0^2}.$$

Отсюда полное время для второго случая

$$t_{II} = 2t_0 + t_x = 2t_0 + \sqrt{\frac{2s}{a} + 2t_0^2}. \quad (40)$$

Здесь t_0 дается выражением (39). Очевидно, что вторая стратегия потребует меньше времени, т.е. $t_{II} < t_I$.

Ответ: $2t_0 + \sqrt{\frac{2s}{a} + 2t_0^2}$, где $t_0 = \frac{\tau}{2 + \sqrt{2}}$.

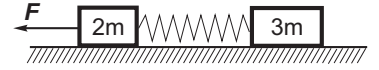
Критерии оценки

1. Правильно найдено время движения в первом случае (38): *1 балл*
2. Правильно описана стратегия для второго случая: *3 балла*
3. Правильно найдено время движения во втором случае (40), (39) : *4 балла*
4. Сделан вывод о том, что время во втором случае меньше: *2 балла*

Максимальная оценка *10 баллов*

10 класс

1. На горизонтальной плоскости лежат два бруска массами $3m$ и $2m$, соединённые ненапряжённой пружиной (см. рис.). Какую наименьшую постоянную силу, направленную горизонтально, нужно приложить к бруску массой $2m$, чтобы сдвинулся и другой брусок? Коэффициент трения брусков о плоскость μ .



Решение

Пусть брусок массой $3m$ остается неподвижным, брусок массой $2m$ смещается на x и останавливается. В этом случае сила F совершает работу по растяжению пружины и против сил трения:

$$Fx = \frac{kx^2}{2} + \mu 2mgx, \quad (41)$$

отсюда

$$F = \frac{kx}{2} + 2\mu mg. \quad (42)$$

Условие начала скольжения бруска $3m$

$$kx = \mu 3mg. \quad (43)$$

Из (42) и (43) получаем

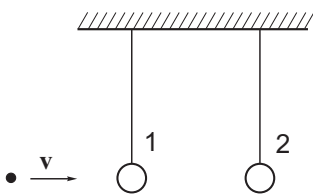
$$F_{min} = \frac{3\mu mg}{2} + 2\mu mg = \frac{7}{2}\mu mg. \quad (44)$$

Ответ: $\frac{7}{2}\mu mg$.

Критерии оценки

1. Правильно записан закон сохранения энергии для бруска $2m$ (41): 4 балла
2. Правильно записан II закон Ньютона для бруска $3m$ (43): 3 балла
3. Получен правильный ответ (44): 3 балла

Максимальная оценка 10 баллов



2. Пуля пробивает один из подвешенных грузиков и застревает в другом (см.рис.). Начальная скорость пули v , масса пули m равна массе каждого грузика. Найдите количество теплоты, выделившееся в первом грузике, если во втором выделилось количество теплоты Q .

Решение

Для попадания пули в первый грузик закон сохранения импульса

$$mv = mv_1 + mi, \quad (45)$$

закон сохранения энергии

$$\frac{mv^2}{2} = \frac{mv_1^2}{2} + \frac{mu^2}{2} + Q'. \quad (46)$$

Здесь v_1 - скорость пули после пробивания грузика, u - скорость первого грузика. Для попадания пули во второй грузик закон сохранения импульса

$$mv_1 = 2mu_1, \quad (47)$$

закон сохранения энергии

$$\frac{mv_1^2}{2} = \frac{2mu_1^2}{2} + Q. \quad (48)$$

Из (47) и (48) находим

$$Q = \frac{mv_1^2}{4}. \quad (49)$$

Далее решаем (45) и (45) с учетом (49). В результате получаем

$$Q' = 2v\sqrt{mQ} - 4Q. \quad (50)$$

Ответ: $2v\sqrt{mQ} - 4Q$.

Критерии оценки

1. За правильную запись каждого из уравнений (45) - (49): *1 балл*

2. Получен правильный ответ (50): *5 баллов*

Максимальная оценка *10 баллов*

3. Некоторое количество воды нагревается электронагревателем мощностью $P = 500$ Вт. При включении нагревателя на время $\tau_1 = 2$ мин температура воды повысилась на $\Delta T = 1$ К, а при его отключении - понизилась за время $\tau_2 = 1$ мин на ту же величину ΔT . Какова масса нагреваемой воды, если потери тепла за счет рассеяния в окружающую среду пропорциональны времени? Удельная теплоемкость воды $c = 4200 \frac{\text{Дж}}{\text{кг}^\circ\text{C}}$. Решение

При нагревании воды закон сохранения энергии имеет вид:

$$P\tau_1 = cm\Delta T + G\tau_1, \quad (51)$$

а при остывании –

$$cm\Delta T = G\tau_2. \quad (52)$$

Здесь G – мощность отдачи тепла в окружающую среду. Из уравнений (7) и (8) находим

$$m = \frac{P\tau_1\tau_2}{c\Delta T(\tau_1 + \tau_2)} = 4.8 \text{ кг}. \quad (53)$$

Ответ 4.8 кг.

Критерии оценки

1. Правильно записан закон сохранения для нагревания (51): *3 балла*

2. Правильно записан закон сохранения для остывания (52): *3 балла*

2. Решена полученная система уравнений (53): *3 балла*

3. Получен правильный численный ответ: *1 балл*

Максимальная оценка *10 баллов*

4. Перед переездом на абсолютно пустой дороге стоит автомобиль. На светофоре указано, что переезд откроется через τ секунд. Водителю необходимо попасть в точку за переездом, расстояние до которой от автомобиля равно S , за минимальное время. Считать, что автомобиль может двигаться с постоянным по модулю ускорением a как вперед так и назад, кроме того, может резко, практически мгновенно затормозить (дорога сухая, автомобиль исправен). Определить минимальное время, за которое автомобиль может добраться до нужной точки.

Решение

Водитель может поступить следующим образом.

1-й вариант. Дождаться открытия переезда и двигаясь с ускорением a достигнуть требуемой точки. Для этого необходимо время

$$t_I = \tau + \sqrt{\frac{2s}{a}}. \quad (54)$$

2-й вариант. Водитель может использовать другую стратегию: к моменту открытия переезда необходимо приобрести максимально возможную скорость. Для этого необходимо за то время, пока закрыт переезд (τ): начать двигаться назад с ускорением a , резко затормозить, далее начать движение с ускорением a в сторону переезда так, чтобы оказаться у переезда к моменту его открытия. Очевидно, что время движения назад будет равно времени приближения к светофору и равно $\tau/2$. Тогда расстояние, на которое автомобиль отъедет от переезда

$$s_0 = \frac{a\tau^2}{8}, \quad (55)$$

скорость автомобиля непосредственно перед открытием светофора

$$v_0 = a\tau/2, \quad (56)$$

закон движения автомобиля с момента открытия светофора

$$x(t) = v_0 t + \frac{at^2}{2}. \quad (57)$$

Время движения находится из уравнения $x(t) = s$ и равно

$$t = -\frac{v_0}{a} + \sqrt{\frac{v_0^2}{a^2} + \frac{2s}{a}}. \quad (58)$$

Тогда время движения во втором случае

$$t_{II} = t + \tau = \frac{\tau}{2} + \sqrt{\frac{\tau^2}{4} + \frac{2s}{a}} \quad (59)$$

Очевидно, что вторая стратегия потребует меньше времени, т.е. $t_{II} < t_I$.

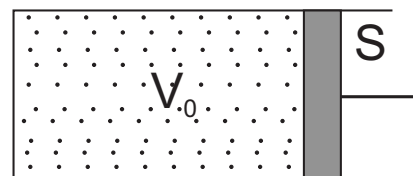
Ответ: $\frac{\tau}{2} + \sqrt{\frac{\tau^2}{4} + \frac{2s}{a}}$

Критерии оценки

1. Правильно найдено время движения в первом случае (54): *1 балл*
2. Правильно описана стратегия для второго случая: *3 балла*
3. Правильно найдено время движения во втором случае (58), (59) : *4 балла*
4. Сделан вывод о том, что время во втором случае меньше: *2 балла*

Максимальная оценка *10 баллов*

5. Идеальный одноатомный газ заполняет открытый цилиндрический сосуд с поршнем, который может двигаться практически без трения. Стенки сосуда и поршень теплоизолированы. Система находится в равновесии, площадь основания цилиндра $S = 200 \text{ см}^2$, начальный объем $V_0 = 3.0 \text{ л}$. Атмосферное давление $p_0 = 10^5 \text{ Па}$. Если в



такой системе надавить или потянуть за поршень, то можно ощутить некоторые “упругие” силы. Покажите, что при малых деформациях для системы выполняется закон Гука и найдите жесткость системы при малых деформациях.

Решение

Поскольку сосуд открыт, поршень может двигаться без трения, то при равновесии давление газа равно атмосферному. Сдвинем поршень на бесконечно малую величину Δx , тогда объем газа станет равным $V_0 + S\Delta x$, давление газа будет p_1 . Под “упругой” силой будем понимать разность сил давления газа и атмосферы на поршень:

$$F_{\text{упр}} = p_1 S - p_0 S. \quad (60)$$

Процесс будет адиабатическим, следовательно первое начало термодинамики дает

$$0 = A + \Delta U \Rightarrow p_0 S \Delta x = -\frac{3}{2} \nu R \Delta T, \quad (61)$$

уравнения состояния:

$$p_0 V_0 = \nu R T_0, \quad p_1 (V_0 + S \Delta x) = \nu R (T + \Delta T). \quad (62)$$

Из (61) и (62) находим

$$p_1 = \frac{\nu R T + \nu R \Delta T}{V_0 + S \Delta x} = \frac{p_0 V_0 - \frac{2}{3} p_0 S \Delta x}{V_0 \left(1 + \frac{S \Delta x}{V_0}\right)} \approx p_0 \left(1 - \frac{2 S \Delta x}{3 V_0}\right) \left(1 - \frac{S \Delta x}{V_0}\right). \quad (63)$$

С учетом малости Δx и оставляя только слагаемые первого порядка малости получаем

$$p_1 = p_0 \left(1 - \frac{5 S \Delta x}{3 V_0}\right). \quad (64)$$

В результате

$$F_{\text{упр}} = -\frac{5 p_0 S^2}{3 V_0} \Delta x \quad (65)$$

и

$$k = \frac{5 p_0 S^2}{3 V_0} = 22.4 \frac{\text{кН}}{\text{м}}. \quad (66)$$

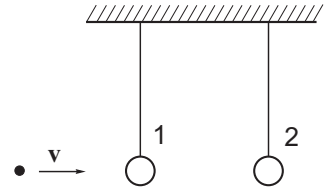
Ответ: $\frac{5 p_0 S^2}{3 V_0} = 22.4 \frac{\text{кН}}{\text{м}}$

Критерии оценки

1. Записаны первое начало и уравнения состояния (61), (62): 4 балла
 2. Получено выражение для давления газа при малом смещении поршня (64): 3 балла
 3. Получен ответ (66) : 3 балла
- Максимальная оценка 10 баллов

11 класс

1. Пуля пробивает один из подвешенных грузиков и застревает в другом (см.рис.). Начальная скорость пули v , масса пули m равна массе каждого грузика. Найдите количество теплоты, выделившееся в первом грузике, если во втором выделилось количество теплоты Q .



Решение

Для попадания пули в первый грузик закон сохранения импульса

$$mv = mv_1 + mu, \quad (67)$$

закон сохранения энергии

$$\frac{mv^2}{2} = \frac{mv_1^2}{2} + \frac{mu^2}{2} + Q'. \quad (68)$$

Здесь v_1 - скорость пули после пробивания грузика, u - скорость первого грузика. Для попадания пули во второй грузик закон сохранения импульса

$$mv_1 = 2mu_1, \quad (69)$$

закон сохранения энергии

$$\frac{mv_1^2}{2} = \frac{2mu_1^2}{2} + Q. \quad (70)$$

Из (67) и (70) находим

$$Q = \frac{mv_1^2}{4}. \quad (71)$$

Далее решаем (67) и (67) с учетом (71). В результате получаем

$$Q' = 2v\sqrt{mQ} - 4Q. \quad (72)$$

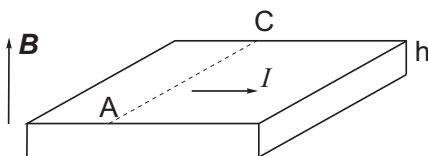
Ответ: $2v\sqrt{mQ} - 4Q$.

Критерии оценки

1. За правильную запись каждого из уравнений (67) - (71): 1 балл

2. Получен правильный ответ (72): 5 баллов

Максимальная оценка 10 баллов



2. По металлической ленте, толщина которой h , течет ток I (см. рис.). Лента помещена в однородное магнитное поле, индукция которого равна \mathbf{B} и направлена перпендикулярно поверхности ленты.

Определите разность потенциалов между точками А и С ленты, если концентрация свободных электронов в металле равна n .

Решение

На свободные заряды в ленте будут действовать сила Лоренца и электрическая сила, которые будут уравновешивать друг друга

$$eE = evB. \quad (73)$$

Отсюда получаем

$$E = vB. \quad (74)$$

Ток, текущий по ленте по определению

$$I = \frac{\Delta q}{\Delta t} = \frac{nev\Delta tS}{\Delta t} = nevdh, \quad (75)$$

где d - ширина ленты. Тогда

$$v = \frac{I}{nedh}. \quad (76)$$

Тогда с учетом (74) получаем

$$E = \frac{BI}{nedh} \Rightarrow U = Ed = \frac{BI}{neh}. \quad (77)$$

Ответ: $\frac{BI}{neh}$

Критерии оценки

1. Найдена напряженность электрического поля (74): 3 балла

2. Правильно записано выражение для тока (75): 3 балла

3. Получен правильный ответ: 4 балла

Максимальная оценка 10 баллов

3. Шарик массой 0.2 кг, подвешенный на нити, совершает гармонические колебания. Во сколько раз увеличится частота колебаний, если шарiku сообщить заряд 100 мкКл и поместить в однородное электрическое поле напряженностью 160 кВ/м, направленное вертикально вниз? Ускорение свободного падения 10 м/с².

Решение

В силу однородности электрического поля для шарика можно заменить действие силы тяжести и электрического поля на действие только поля тяжести с другим “эффективным” $g_{\text{эф}}$:

$$mg + qE = mg_{\text{эф}} \Rightarrow g_{\text{эф}} = g + \frac{qE}{m}. \quad (78)$$

Тогда

$$\nu_1 = \frac{1}{2\pi} \sqrt{\frac{g}{l}}, \quad \nu_2 = \frac{1}{2\pi} \sqrt{\frac{g_{\text{эф}}}{l}}, \quad (79)$$

отсюда

$$\frac{\nu_2}{\nu_1} = \sqrt{\frac{g_{\text{эф}}}{g}} = \sqrt{1 + \frac{qE}{mg}} = 3. \quad (80)$$

Ответ: 3

Критерии оценки

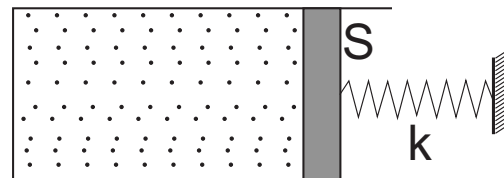
1. Найдено выражение для $g_{\text{эф}}$ (78): 4 балла

2. Правильно записано выражение частот колебаний (79): 3 балла

3. Получен правильный ответ (80): 3 балла

Максимальная оценка 10 баллов

4. Идеальный одноатомный газ заполняет цилиндрический сосуд с поршнем, который может двигаться практически без трения. Стенки сосуда и поршень теплоизолированы. Система находится в равновесии, площадь основания цилиндра $S = 200 \text{ см}^2$, начальный объем $V_0 = 3.0 \text{ л}$, температура $t_0 = 20 \text{ }^\circ\text{C}$. Поршень соединен с недеформированной пружиной (см. рис.), другой конец которой закреплен, жесткость пружины $k = 15 \text{ кН/м}$. Газ медленно нагревают до температуры $t_1 = 80 \text{ }^\circ\text{C}$, удерживая поршень на месте. Затем поршень резко отпускают. Пренебрегая массой поршня, найдите температуру газа после того, как система придет в равновесие. Атмосферное давление $p_0 = 10^5 \text{ Па}$.



Решение

Газ сначала изохорно нагревают, в результате давление в сосуде становится равным

$$p_1 = p_0 \frac{T_1}{T_0}. \quad (81)$$

Запишем уравнения состояния

$$p_0 V_0 = \nu R T_0, \quad (82)$$

$$p_1 V_0 = \nu R T_1. \quad (83)$$

После отпускания поршня начинается неравновесный процесс. Для него можно записать первое начало термодинамики, полагая, что работа газа идет на увеличение потенциальной энергии пружины

$$0 = A + \Delta U \Rightarrow 0 = \frac{k \Delta x^2}{2} + \frac{3}{2} \nu R (T_2 - T_1). \quad (84)$$

Далее из (81) - (84) получаем квадратное уравнение относительно Δx

$$4k \Delta x^2 + \Delta x \left(3p_0 S + \frac{3kV_0}{S} \right) - 3p_0 V_0 \left(\frac{T_1}{T_0} - 1 \right) = 0. \quad (85)$$

Решая (85) находим $\Delta x \approx 1.36 \text{ см}$. Из (84) с учетом (82)

$$T_2 = T_1 - T_0 \frac{k \Delta x^2}{3p_0 V_0} = 352.1 \text{ К} = 79.1 \text{ }^\circ\text{C}. \quad (86)$$

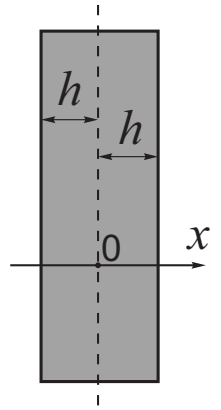
Ответ: $352.1 \text{ К} = 79.1 \text{ }^\circ\text{C}$

Критерии оценки

1. Записано уравнение изохорного процесса и уравнения состояния (81) - (83) : 3 балла
2. Записано первое начало термодинамики (84): 2 балла
3. Получено квадратное уравнение и найдено Δx (85): 3 балла
4. Найдено T_2 (86): 2 балла

Максимальная оценка 10 баллов

5. Пластина толщиной $2h$ заряжена с постоянной объёмной плотностью заряда ρ . Поперечные размеры пластины значительно больше ее толщины, поэтому граничными эффектами можно пренебречь. Ось Ox направлена перпендикулярно пластине, начало отсчёта находится в центре пластины.



а) Найдите зависимость проекции вектора напряженности электрического поля E_x на ось Ox от координаты x в диапазоне $-2h \leq x \leq 2h$, постройте график. Считайте заряд пластины отрицательным.

б) Найдите зависимость потенциала электростатического поля от координаты x в диапазоне $-2h \leq x \leq 2h$, постройте график. Потенциал в центре пластины принять равным нулю: $\varphi(0) = 0$.

Прим. Объёмной плотностью электрического заряда называется отношение заряда элемента объема к величине этого элемента объема: $\rho = \frac{\Delta q}{\Delta V}$.

Решение

Напряженность поля бесконечно большой пластины с поверхностной плотностью заряда σ

$$E = \frac{\sigma}{2\varepsilon_0} \quad (87)$$

Для пластины конечной толщины l , объёмная плотность заряда ρ можно показать, что $\sigma = \rho l$ и

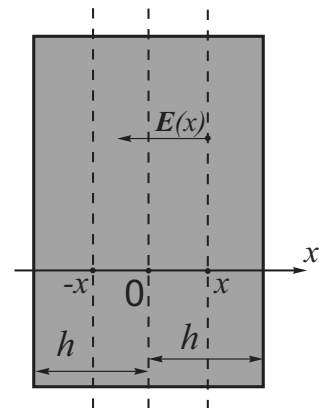
$$E = \frac{\rho l}{2\varepsilon_0} \quad (88)$$

Возьмем точку на расстоянии x от оси симметрии пластины (см. рис.). Поле в этой точке будет создаваться зарядами, находящимися в слое от $-x$ до x . Поля, которые в данной точке будут создаваться остальными зарядами, будут компенсировать друг друга. Таким образом,

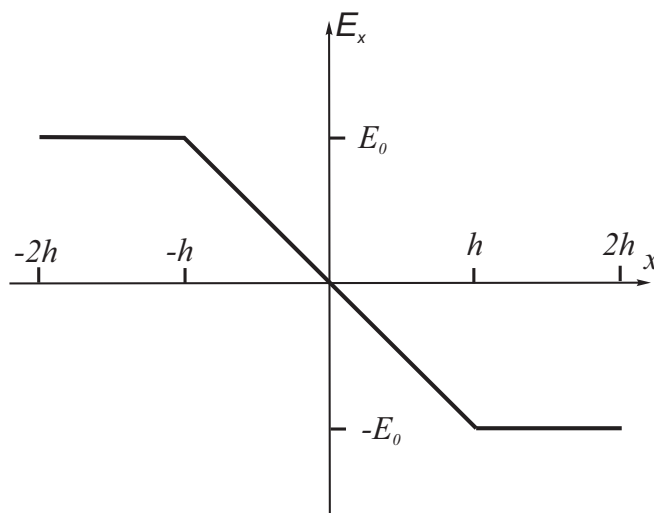
$$E = \frac{\rho 2x}{2\varepsilon_0} = \frac{\rho x}{\varepsilon_0}, \quad \text{при } |x| \leq h. \quad (89)$$

При $|x| > h$ получаем

$$E_0 = \frac{\rho 2h}{2\varepsilon_0} = \frac{\rho h}{\varepsilon_0}. \quad (90)$$



Построим график напряженности, с учетом $\rho < 0$:



Для нахождения потенциала запишем

$$\Delta\varphi = -E_x\Delta x. \quad (91)$$

Поскольку напряженность изменяется, то изменение потенциала будет численно равно площади под графиком $E_x(x)$:

$$\varphi(x) = -\frac{1}{2}E_x(x)x = -\frac{\rho x^2}{2\varepsilon_0} \quad (92)$$

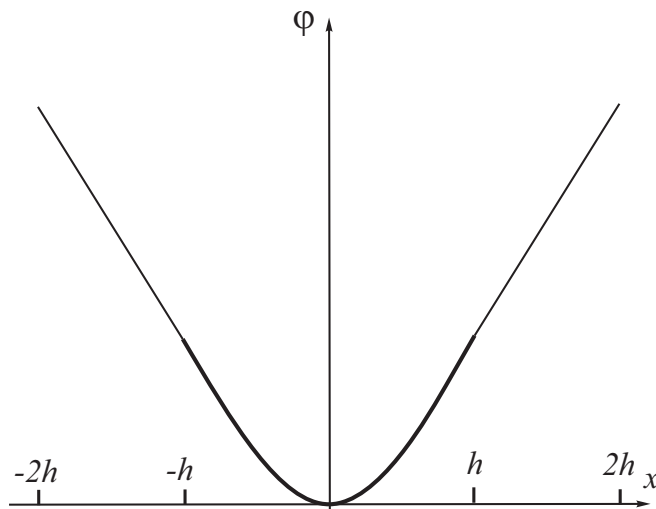
Полученный ответ справедлив при $x \leq h$. При $x > h$ напряженность поля постоянна, поэтому

$$\varphi(x) - \varphi(h) = -E_0(x - h), \quad (93)$$

тогда с учетом (90) получаем

$$\varphi(x) = \frac{\rho h}{2\varepsilon_0}(h - 2x). \quad (94)$$

График строим с учетом $\rho < 0$:



Критерии оценки

1. Получены выражения для напряженности внутри и вне пластины: *3 балла*
2. Построен график напряженности: *2 балла*
3. Получены выражения для потенциала внутри и вне пластины: *3 балла*
4. Построен график потенциала: *2 балла*

Максимальная оценка *10 баллов*